

Nama :

Nomor Absen

Kelas-jurusan : X

Besaran dan Satuan

1. Tuliskan 7 besaran pokok beserta satuan dan demensinya?


No	Nama Besaran	Satuan (SI)	Demensi
1			
2			
3			
4			
5			
6			
7			

2. Tuliskan 5 besaran turunan beserta satuan dan demensinya?

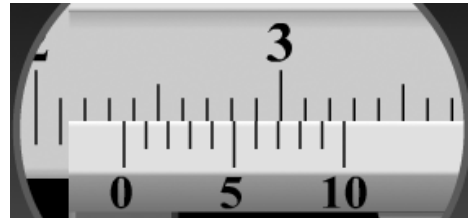
No	Nama Besaran	Satuan (SI)	Demensi
1			
2			
3			
4			
5			

3. Sebutkan nama alat ukur di bawah ini dan baca hasil pengukurannya!

Jawab a:.....



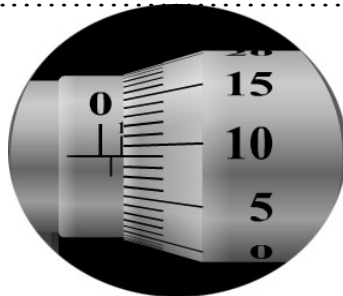
b:.....



Hasil ukur.....

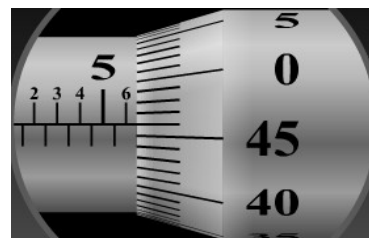
Hasil ukur.....

C:.....



Hasil ukur.....

D:.....



Hasil ukur.....